

Závěrečný test z hudební nauky 4. ročník

Jméno a příjmení.....

1. Dopln názvy not v houslovém a basovém klíči.

















2. K daným tónům dopln druhý tak, aby byly enharmonicky záměnné.





3. Napiš stupnice G dur. Dopln tónický, subdominantní, dominantní kvintakord a dominantní septakord.

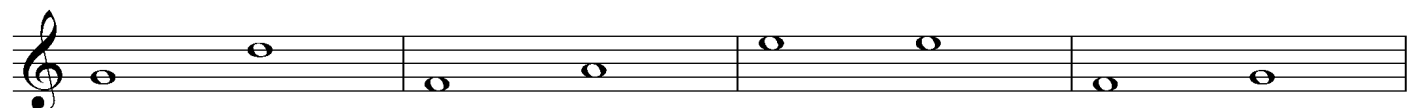



T5 S5 D5 D7

4. Dopln v stupnici f moll melodické předznamenání a posuvky.



5. Pod každou dvojici dopln název intervalu (číslem).





6. Zakroužkuj dvojici tónů, které tvoří interval tercií.



7. Dopln̄ taktové řáry:

