


Závěrečný test z hudební nauky 2. ročník

Jméno a příjmení.....

1. Doplň názvy not v houslovém a basovém klíči.



2. Doplň předznamenání v těchto stupnicích.


A dur

Es dur

F dur

E dur

B dur



3. Přiřaď jednotlivá tempa do správné skupiny: Adagio, Vivace, Lento, Moderato, Presto, Allegro.

Pomalá tempa

Střední


Rychlá

.....
.....

.....

.....
.....
.....

4. Napiš v celých notách stupnici Es dur. Doplň předznamenání, vyznač oba půltóny (svorkou) a doplň akord.



5. Vyjmenuj dechové dřevěné nástroje:

.....
.....
.....

....
Který z nich je dvouplátkový?

.....

6. Zakroužkuj dvojici tónů, které tvoří půltón.

